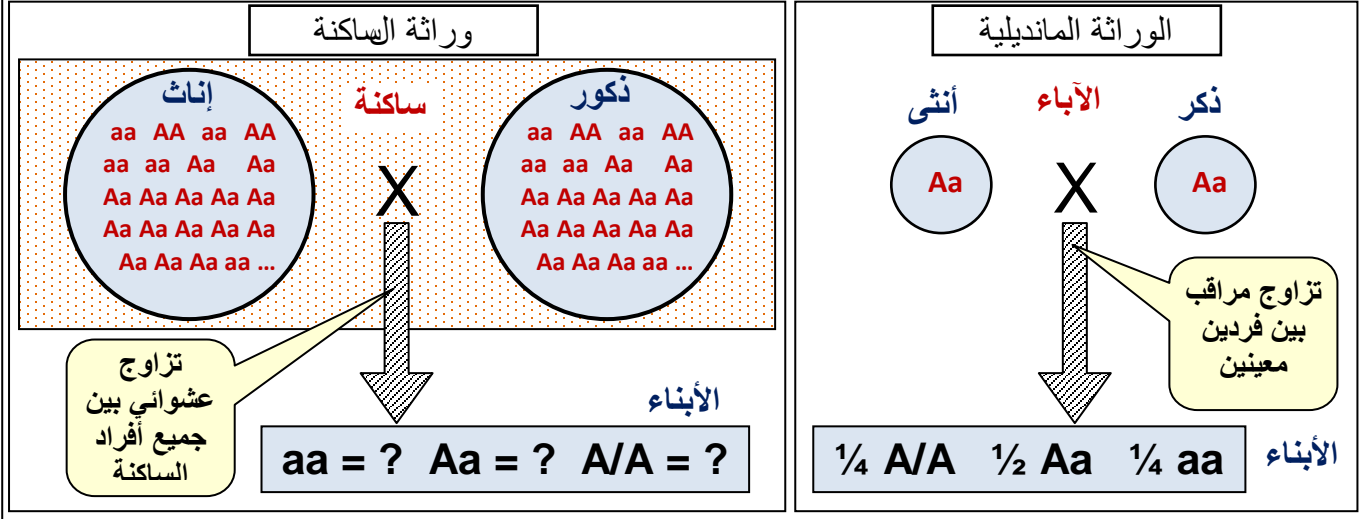


## الوحدة الثانية، الفصل الثاني: علم وراثاة الساكنة

### الوثيقة 1: مفهوم علم وراثاة الساكنة.

تغطي الخطاطة أسفله، رسما تفسيريا يظهر اهتمامات كل من الوراثة المانديلية ووراثة الساكنة. حدد من خلال هذه الوثيقة اهتمامات كل من علمي الوراثة المانديلية ووراثة الساكنة، ثم حدد أهداف وراثاة الساكنة.



### الوثيقة 2: بعض أنواع الساكنات المستوطنة بالمغرب

يقتضي تحديد الساكنة اعتبار معايير فضائية، وزمانية، ووراثية. بين ذلك انطلاقا من الوثائق أسفله. ثم استخرج تعريفا مبسطا لمفهوم الساكنة، مع تحديد خاصيات الساكنة الطبيعية.



#### الشكل 1: شجر أركان ساكنة نباتية

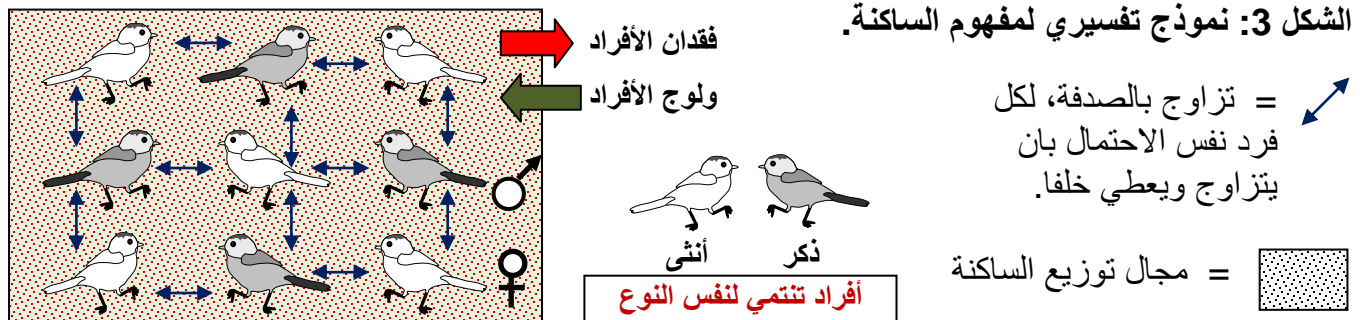
يوجد شجر أركان أساسا في الأطلس الكبير وفي سهل سوس والأطلس الصغير، ويغطي مساحة تقدر ما بين 700.000 و 850.000 هكتار. وهو نوع لا مبالي بنوعية التربة (ينمو فوق تربة سيليسية، شيسيتية، كلسية) ويتحمل الحرارة (+50°) ويقاوم الجفاف ينتمي للطبقة الحيمناخية شبه القاحلة والقاحلة، لا يتجاوز علوه 10 أمتار، من كاسيات البذور يزهر في فصل الربيع يتكاثر عن طريق التوالد الجنسي بحيث تحرر المأبر بعد نضجها حبوب اللقاح لتنتقل إلى ميسم الزهرة فتلتصق به لتتبت أنبوب اللقاح الذي ينمو في اتجاه الببيضة. ولن تتم عملية الإنبات إلا إذا كان هناك تلاؤم بين حبوب اللقاح والميسم (أي ينتميان لنفس النوع) و هو أمر يتحكم فيه البرنامج الوراثي لكل من حبوب اللقاح والميسم. وتشكل كل الحليلات المتواجدة عند كل أفراد الساكنة ما يسمى بالمحتوى الجيني.

#### الشكل 2: ساكنة القرد زعوط Le macaque

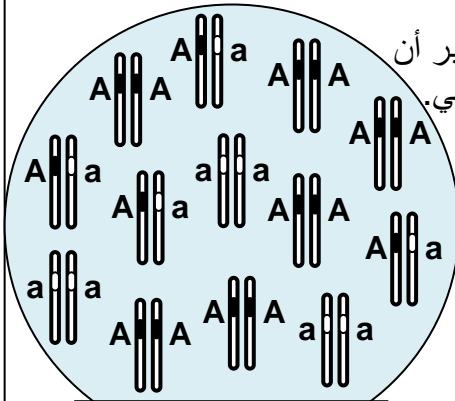


Macaca sylvanus المعروف بالقرد زعوط هو نوع من القردة التي تستوطن المغرب، وتشكل ساكنة يبلغ عددها حاليا زهاء 10000 بين المغرب والجزائر. تنتشر هذه الساكنة على الخصوص في غابات شجر الأرز بجبال الأطلس المتوسط، على ارتفاع يتراوح بين 1200 و 2000 متر، يتميز بقدرته على تحمل التغيرات المناخية (صيف حار وجاف وشتاء بارد جدا). وهو قرد بدون ذيل، يصل وزنه إلى 20 كلف عند الذكور و 15 كلف عند الإناث، وطوله زهاء 60 سم.

#### الشكل 3: نموذج تفسيري لمفهوم الساكنة.



### الوثيقة 3: المحتوى الجيني للسكان:



المحتوى الجيني لسكان P

★ يقدم الرسم أسفله المحتوى الجيني عند ساكنة P مكونة من 13 فردا. سنعتبر أن المورثة غير مرتبطة بالجنس، وتملك حليلين: الحليل A سائد، والحليل a متنحي. (1) انطلاقا من هذه المعطيات، أعط تعريفا للمحتوى الجيني للسكان.

★ إذا علمت أن:

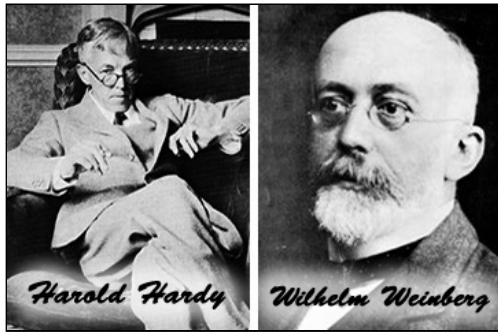
- ✓ تردد مظهر خارجي [A] = عدد الأفراد الحاملين للمظهر [A] مقسوم على مجموع أفراد الساكنة N.
- ✓ تردد نمط وراثي (A,A) = عدد الأفراد الحاملين للنمط (A,A) مقسوم على مجموع أفراد الساكنة N.

★ يمكن حساب تردد الحليل A بحساب احتمال سحب tirage هذا الحليل بالصدفة من الساكنة، الشيء الذي يتطلب في الأول سحب فرد معين من هذه الساكنة ثم سحب أحد حليليه:

- ✓ يمكن أن يكون الفرد المسحوب AA باحتمال D، في هذه الحالة، احتمال سحب الحليل A بالصدفة من هذا الفرد يساوي 1 (لأن هذا الفرد يحمل الحليل A فقط).
- ✓ أو أن يكون الفرد المسحوب Aa باحتمال H، في هذه الحالة، احتمال سحب الحليل A بالصدفة من هذا الفرد يساوي 1/2 (لأن هذا الفرد يحمل كذلك الحليل a).
- ✓ أو أن يكون الفرد المسحوب aa باحتمال R، في هذه الحالة، احتمال سحب الحليل A بالصدفة من هذا الفرد يساوي 0 (لأن هذا الفرد لا يحمل الحليل A).

(2) أحسب تردد كل من المظاهر الخارجية، الأنماط الوراثية، والحليلات عند الساكنة P.

### الوثيقة 4: قانون (أو نموذج) Hardy وWeinberg.



لقد تمكن عالم الرياضيات الانجليزي Godfrey Harold Hardy، والطبيب الألماني Wilhelm Weinberg، بشكل منفصل، من إثبات أن تردد الحليلات في ساكنة معينة، لن يتغير مع مرور الزمن كيفما كانت هذه الحليلات، سائدة أم متنحية. لكن مع ضرورة توفر شروط معينة في الساكنة المدروسة. وهكذا أسس العالمان سنة 1908 قانون Hardy-Weinberg.

#### ★ خصائص الساكنة النظرية المثالية:

- لكي تكون الساكنة خاضعة لقانون Hardy-Weinberg، يجب أن تتوفر فيها مجموعة من الشروط، فقول أنها ساكنة نظرية مثالية. تتجلى هذه الشروط في كون هذه الساكنة هي:
- ✓ ساكنة لمتعضيات ثنائية الصيغة الصبغية ذات توالد جنسي وأجيالها غير مترابطة (ليس هناك أي تزاوج بين أفراد الأجيال المختلفة).
- ✓ ساكنة ذات عدد لا منته حيث تتسم التزاوجات بشكل عشوائي (لا يتم اختيار الشريك الجنسي حسب مظهره الخارجي أو نمطه الوراثي).
- ✓ ساكنة مغلقة وراثيا (ليس هناك تدفقات ناتجة عن ظاهرة الهجرة).
- ✓ لجميع أفراد الساكنة، مهما كان نمطهم الوراثي، القدرة نفسها على التوالد والقدرة على إعطاء خلف قادر على العيش = غياب الانتقاء.
- ✓ غياب الطفرات والتغيرات الوراثية أثناء افتراق الصبغيات اثر الانقسام الاختزالي (يعطي الفرد من النمط Aa دائما 50% من الأمشاج A و50% من الأمشاج a).
- ✓ التزاوج العشوائي بين الأفراد: الأفراد يتزاوجون بالصدفة Panmixie (لا يتم اختيار الشريك الجنسي بناء على خصائص نمطه الوراثي أو مظهره الخارجي، والتقاء الأمشاج يحصل كذلك بالصدفة Pangamie).

#### ★ قانون Hardy-Weinberg:

في الساكنة النظرية المثالية تظل ترددات الأنماط الوراثية وترددات الحليلات مستقرة من جيل لآخر، نقول أن هذه الساكنة في حالة توازن، وهي بالتالي خاضعة لقانون Hardy-Weinberg.

## الوثيقة 5 : إنشاء قانون Hardy – Weinberg

لنعتبر ساكنة نظرية مثالية، ولننتبع تطور محتواها الجيني على مدى جيلين متتابعين  $G_0$  و  $G_1$ ، وذلك من خلال تتبع تطور كل من الأنماط الوراثية وتردد الحليلات بالنسبة لمورثة غير مرتبطة بالجنس ذات حليلين  $A$  و  $a$ .

- (1) حدد تردد كل من الأنماط الوراثية والحليلات في الجيل الأصلي  $G_0$ .
- (2) حدد تردد الأنماط الوراثية في الجيل  $G_1$ .
- (3) حدد تردد الحليلات في الجيل  $G_1$  من خلال تردد أنماطه الوراثية.
- (4) ماذا تستنتج ؟

**ساكنة نظرية مثالية (الجيل  $G_0$ )**

**تردد الأنماط الوراثية في الجيل  $G_0$ :**

$f(AA) = \dots\dots\dots$

$f(Aa) = \dots\dots\dots$

$f(aa) = \dots\dots\dots$

$f(AA) + f(Aa) + f(aa) = \dots\dots\dots$

$= \dots\dots\dots$

**تردد الحليلات في الجيل  $G_0$ :**

$f(A) = p = \dots\dots\dots$

$f(a) = q = \dots\dots\dots$

$p + q = \dots\dots\dots$

**تردد حليلات الأمشاج الذكرية:**

$f(A) = \dots\dots\dots$

$f(a) = \dots\dots\dots$

$f(A) + f(a) = \dots\dots\dots$

$= \dots\dots\dots$

**تردد حليلات الأمشاج الأنثوية:**

$f(A) = \dots\dots\dots$

$f(a) = \dots\dots\dots$

$f(A) + f(a) = \dots\dots\dots$

$= \dots\dots\dots$

**التقاء الأمشاج بالصدفة أثناء الإخصاب**

**تردد الأنماط الوراثية في الجيل  $G_1$ :**

$f(AA) = \dots\dots\dots$

$f(Aa) = \dots\dots\dots$

$= \dots\dots\dots$

$f(aa) = \dots\dots\dots$

$f(AA) + f(Aa) + f(aa) = \dots\dots\dots$

$= \dots\dots\dots$

$= \dots\dots\dots$

**شبكة التزاوج ← الجيل  $G_1$**

		♂	
		A	a
♀	A		
	a		

**تردد الحليلات في الجيل  $G_1$ :**

$f(A) = \dots\dots\dots$

$f(a) = \dots\dots\dots$

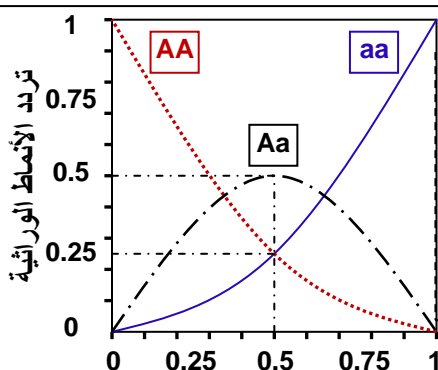
$f(A) + f(a) = \dots\dots\dots$

$= \dots\dots\dots$

## الوثيقة 6: تردد الأنماط الوراثية بدلالة قيمة $q$ حسب قانون H-W.

بتطبيق المعادلات:  $f(aa)=q^2$ ,  $f(Aa)=2pq=2q(1-q)$ ,  $f(AA)= p^2=(1-q)^2$  يمكن تمثيل منحنيات تردد مختلف الأنماط الوراثية بدلالة قيمة تردد الحليل  $a$  ( $q$ )، فنحصل على الشكل جانبه.

حدد قيم تردد مختلف الأنماط الوراثية في حالة  $p=q=0.5$ . ثم قارن هذه المعطيات مع النسب المانديلية في حالة تزاوج الهجناء مختلفي الاقتران.



الوثيقة 7: اختبار التوازن  $\chi^2$ :

$\alpha$	0,90	0,50	0,30	0,20	0,10	0,05	0,02	0,01	0,001
ddl									
1	0,0158	0,455	1,074	1,642	2,706	3,841	5,412	6,635	10,827
2	0,211	1,386	2,408	3,219	4,605	5,991	7,824	9,210	13,815
3	0,584	2,366	3,665	4,642	6,251	7,815	9,837	11,345	16,266
4	1,064	3,357	4,878	5,989	7,779	9,488	11,668	13,277	18,467
5	1,610	4,351	6,064	7,289	9,236	11,070	13,388	15,086	20,515
6	2,204	5,348	7,231	8,558	10,645	12,592	15,033	16,812	22,457
7	2,833	6,346	8,383	9,803	12,017	14,067	16,622	18,475	24,322
8	3,490	7,344	9,524	11,030	13,362	15,507	18,168	20,090	26,125
9	4,168	8,343	10,656	12,242	14,684	16,919	19,679	21,666	27,877
10	4,865	9,342	11,781	13,442	15,987	18,307	21,161	23,209	29,588
.	.	.	.	.	.	.	.	.	.
30	20,599	29,336	33,530	36,250	40,256	43,773	47,962	50,892	59,703

## الوثيقة 8: تطبيق قانون Hardy-Weinberg على ساكنة نظرية مثالية في حالة السيادة التامة

داخل ساكنة نظرية تتألف من 500 نبتة زهرية، تم إحصاء عدد الأفراد بأزهار حمراء، وعدد الأفراد بأزهار بيضاء، فحصلنا على النتائج الممثلة على الجدول جانبه. للإشارة فالمورثة المسؤولة عن لون الأزهار محمولة على صبغي لا جنسي مع سيادة الحليل المسؤول عن اللون الأحمر (R) على الحليل المسؤول عن اللون الأبيض (b).

المظهر الخارجي	مظهر خارجي متتحي [ b ]	مظهر خارجي سائد [ R ]
النمط الوراثي	bb	RR + Rb
عدد الأفراد	20	480

باعتبار هذه الساكنة في حالة توازن، وبتطبيق معادلة Hardy-Weinberg

$$p^2(RR) + 2pq(Rb) + q^2(bb) = 1$$

مع:  $p =$  تردد الحليل R، و  $q =$  تردد الحليل b، و  $p + q = 1$ .

- أحسب تردد الأنماط الوراثية والحليلات عند الساكنة الأم، ثم استنتج العدد النظري للأنماط الوراثية RR و Rb
- أحسب تردد الأنماط الوراثية وتردد الحليلات عند الساكنة البنات. ماذا تستنتج؟

## الوثيقة 9: انتقال مرض التليف الكيسي Mucoviscidose.

مرض التليف الكيسي هو مرض وراثي منتشر جداً، يتميز باضطرابات هضمية وتنفسية، تسببها إفرازات الغدد المخاطية. يؤدي المرض إلى خلل في الوظيفة الهضمية للبنكرياس بسبب انسداد القنوات الناقلة للعصارة الهضمية، وعسر تنفسي بسبب انغلاق القصبات الرئوية بتراكم المخاط المفرط واللزج، والإصابة بالتعفنات.

عند ساكنة متوازنة، يصاب بهذا المرض، طفل من بين 3000 .

يتسبب في مرض mucoviscidose حليل متتحي m غير مرتبط بالصبغيات الجنسية.

- أعط النمط الوراثي أو الأنماط الوراثية الممكنة للأفراد العاديين. علل إجابتك. (أستعمل الرمز  $m^+$  بالنسبة للحليل السائد)
- أحسب تردد الأفراد المصابين في هذه الساكنة.
- أحسب تردد الأفراد مختلفي الاقتران في هذه الساكنة.

### الوثيقة 10: النظام الدموي MN عند الإنسان

- 1 عند الإنسان تخضع الفصيلة الدموية في النظام MN لتعبير حليلين متساويي السيادة M و N. أعطت دراسة أجريت على 730 شخص بريطاني النتائج الإحصائية التالية: [MN] 216 + [M] 22 + [N] 492
- 1) أحسب تردد مختلف الأنماط الوراثية في هذه الساكنة.
  - 2) أحسب تردد الحليلين M و N.
  - 3) إذا اعتبرنا أن هذه الساكنة في حالة توازن Hardy – Weinberg، أحسب التردد المنتظر لكل من الأنماط الوراثية.
  - 4) أحسب عدد كل من الأنماط الوراثية المنتظر حسب قانون Hardy – Weinberg.
  - 5) هل تعتبر هذه الساكنة في حالة توازن (تأكد من ذلك باستعمال اختبار التوافقية  $\chi^2$ ).
- 2 عند سلالة من الماعز، نجد ثلاثة مظاهر خارجية فيما يخص لون الفرو. فهناك اللون الأسود [NN]، واللون الأبيض [BB]، واللون الرمادي [NB]، الذي يدل على تساوي السيادة بين الحليل المسؤول عن اللون الأبيض (B)، والحليل المسؤول عن الأسود (N).
- داخل ساكنة تتكون من 10000 فرد، تم إحصاء 3000 فرد [NN]، و 1000 فرد [NB]، و 6000 فرد [BB]. بتطبيقك نفس المراحل المعتمدة في الجزء 1 من هذا التمرين، بين هل هذه الساكنة هي في حالة توازن.

### الوثيقة 11: انتقال صفة لون العيون عند ذبابة الخل

- ترتبط صفة لون العيون عند ذبابة الخل بمورثة محمولة على الصبغي الجنسي X، تتضمن حليلين: الحليل w متنح مسؤول عن العيون البيضاء. والحليل S سائد مسؤول عن العيون الحمراء.
- نضع داخل قفص الساكنة (قفص يمكن من تتبع تطور تردد الأنماط الوراثية وتردد الحليلات) عددا متساويا من ذكور وإناث ذبابات الخل.
- نعتبر أن هذه الساكنة تتوالد وفق النظام البنمكتي، وأنها في حالة توازن لا تعرف طفرات ولا انتقاء طبيعي، وأنها كبيرة جدا لتطبيق قوانين الاحتمالات، وأن ترددات الحليلين S و w هي على التوالي p و q في الجيل الأول  $G_0$ .
- 1) أعط الأنماط الوراثية الممكنة عند أفراد هذه الساكنة.
  - 2) أحسب تردد الأنماط الوراثية في الجيل  $G_1$ . ثم قارن نتائج تطبيق قانون H.W عند الذكور والإناث.
  - 3) ماذا تستنتج من تطبيق قانون H – W في حالة مورثة مرتبطة بالجنس.
  - 4) يساعد تطبيق قانون Hardy–Weinberg على توقع انتشار بعض الأمراض عند الإنسان. وضح ذلك.

### الوثيقة 12: تمارين تطبيقية

- ★ التمرين ①: الدلتونية عيب في إبطار الألوان، ويتعلق الأمر بشذوذ مرتبط بمورثة محمولة على الصبغي الجنسي X. ينتج هذا العيب عن حليل d متنح. بينت دراسة تردد الدلتونية عند ساكنة مكونة من أطفال، أن تردد الحليل المسؤول عن المرض هو  $q = 0.1$ .
- أحسب نسبة ظهور المرض عند كل من الإناث والذكور في هذه الساكنة. ماذا تستنتج؟
- ★ التمرين ②: داء Alport (الكلية) مرض وراثي سائد مرتبط بالصبغي الجنسي X. تردد الحليل المسؤول عن المرض عند ساكنة هو  $p = 0.087$ .
- أحسب نسبة ظهور المرض عند كل من الإناث والذكور في هذه الساكنة. ماذا تستنتج؟

- ★ التمرين ③: تتحكم في لون الفرو عند القطط مورثة مرتبطة بالصبغي الجنسي X. لهذه المورثة حليلين:

المظهر الخارجي للقطط			
فرو أسود	فرو مبقع بالأصفر والأسود	فرو أصفر	
300	0	50	ذكور
300	50	10	إناث

- حليل Cn يمكن من تركيب الميلانين، مما يعطي لونا أسودا للفرو.
  - حليل Cz يكبح تركيب الميلانين، مما يعطي لونا أصفرا للفرو.
- عند عينة من القطط حصلنا على النتائج المبينة على الجدول أمامه:
- 1) أعط النمط الوراثي المناسب لكل مظهر خارجي.
  - 2) فسر غياب المظهر الخارجي المبقع بالأصفر والأسود عند الذكور.
  - 3) أحسب تردد الحليل Cn وتردد الحليل Cz عند هذه العينة.
  - 4) هل تردد الحليل Cn متطابق عند الجنسين؟ علل إجابتك.
  - 5) أحسب تردد القطط بفرو أسود في الجيل الموالي في حالة ما إذا تمت التزاوجات بشكل عشوائي على مستوى العينة المدروسة.

### الوثيقة 13: طفرة وراثية عند ذبابة الخل.

يرتبط تشكل القطع الصدرية عند ذبابة الخل بتدخل آلاف المورثات (الشكل أمامه). في بعض الحالات تتخذ القطعة الصدرية T<sub>3</sub> مظهر القطعة الصدرية T<sub>2</sub>، فتعطي ذبابة خل بأربعة أجنحة.

مظهر أجنحة متوحش (عادي)  
مظهر طافر  
قطعة صدرية T<sub>3</sub> بمظهر T<sub>2</sub>

القطعة الصدرية T<sub>2</sub>  
القطعة الصدرية T<sub>3</sub>

ذبابة خل بأربعة أجنحة

### الوثيقة 14: الطفرات الصبغية

للتعرف على الطفرات الصبغية، نقترح دراسة الرسوم التفسيرية أسفله. استخراج من معطيات هذه الوثيقة تعريفًا للطفرات الصبغية، وأنواعها.

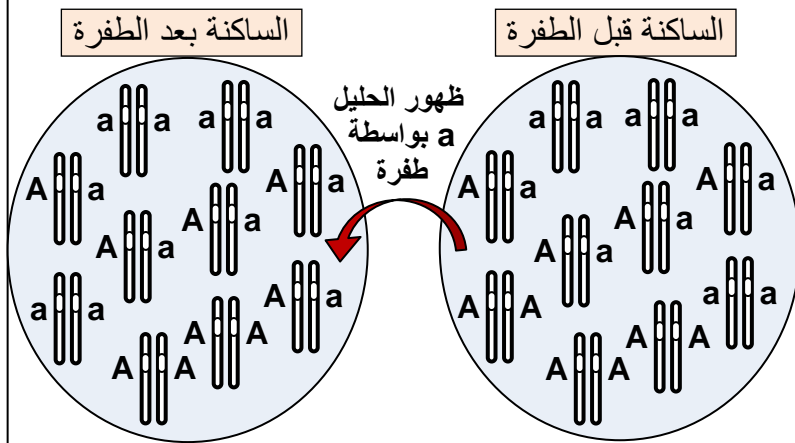
### الوثيقة 15: الطفرات الموضعية Mutations ponctuelles

قصد التعرف على الطفرات الموضعية وأصنافها، نعطي الأشكال أسفله، والتي تمثل متواليات نيكليوتيدية لتحليلات مختلفة لمورثة Hb، المسؤولة عن إنتاج الخضاب الدموي عند الإنسان، ومتتالية الأحماض الأمينية التي ترمز إليها.

- قارن بين أنواع الطفرات التي تصيب مورثة وفسر تأثيرها في بنية البروتين.
- تعرف مختلف أصناف الطفرات الموضعية الممكن استخلاصها من الوثيقة.
- أبرز أهمية الطفرات الموضعية في تعدد الحليلات وتعدد المظاهر الخارجية.

1	2	3	4	5	6	7	8	9	10	11	12	13	14	15	16																							
G	T	G	C	A	C	T	G	A	G	A	A	G	T	C	T	G	C	C	T	G	A	G	A	A	G	T	C	T	G	C	C	T	G	T	G	G	C	
Val	His	Leu	Thr	Pro	Glu	Glu	Lys	Ser	Ala	Val	Thr	Ala	Leu	Trp	Gly																							
																مورثة عادية																						
G	T	G	C	A	C	T	G	A	G	A	A	G	T	C	T	G	C	C	T	G	A	G	A	A	G	T	C	T	G	C	C	T	G	T	G	G	C	
Val	His	Leu	Thr	Pro	Glu	Glu	Lys	Ser	Ala	Val	Thr	Ala	Leu	Trp	Gly																							
																حليل طافر ①																						
G	T	G	C	A	C	T	G	A	G	A	A	G	T	C	T	G	C	C	T	G	A	G	A	A	G	T	C	T	G	C	C	T	G	T	G	G	C	
Val	His	Leu	Thr	Pro	Glu	Val	Lys	Ser	Ala	Val	Thr	Ala	Leu	Trp	Gly																							
																حليل طافر ②																						
G	T	G	C	A	C	T	G	A	G	A	A	G	T	C	T	G	C	C	T	G	A	G	A	A	G	T	C	T	G	C	C	T	G	T	G	G	C	
Val	His	Leu	Thr	Pro	Glu	Glu	Lys	Ser	Ala	Val	Thr	Ala	Leu																									
																حليل طافر ③																						
G	T	G	C	A	C	T	G	A	G	A	A	G	T	C	T	G	C	C	T	G	A	G	A	A	G	T	C	T	G	C	C	T	G	T	G	G	C	A
Val	His	Leu	Thr	Pro	Gly	Arg	Ser	Leu	Pro	Leu	Leu	Pro	Cys	Gly	Ala																							
																حليل طافر ④																						
G	T	G	C	A	C	T	G	A	G	A	A	G	T	C	T	G	C	C	T	G	A	G	A	A	G	T	C	T	G	C	C	T	G	T	G	G	C	A
Val	His	Leu	Thr	Pro	Glu	Glu	Lys	Leu	Cys	Arg	Tyr	Cys	Pro	Pro	Gly																							
																حليل طافر ⑤																						
G	T	G	C	A	C	T	G	A	G	A	A	G	T	C	T	G	C	C	T	G	A	G	A	A	G	T	C	T	G	C	C	T	G	T	G	G	C	A
Val	His	Leu	Thr	Pro	Glu	Glu	Lys	Leu	Cys	Arg	Tyr	Cys	Pro	Pro	Gly																							
																حليل طافر ⑤																						

### الوثيقة 16: تأثير الطفرات في المحتوى الجيني للسكان



★ يعطي الجدول أسفله نسبة الطفرات المقاسة بالنسبة لمورثة معينة عند أربعة متعضيات مختلفة.

المتعضي	نسبة الطفرة في الجيل
حمة العائية	$2.5 \cdot 10^{-9}$
بكتيريا E.Coli	$2 \cdot 10^{-8}$
الذرة	$2.9 \cdot 10^{-4}$
ذبابة الخل	$2.6 \cdot 10^{-5}$

(1) ماذا تلاحظ؟

★ يعطي الرسم أمامه نموذج تفسيري لتأثير الطفرات على المحتوى الجيني للسكان.

(2) أتمم هذا الشكل ثم استنتج.

$$f(A) = p = \frac{((2 \times 2) + 5)}{20} = 0.45$$

$$f(A) = p = \frac{((2 \times 3) + 4)}{20} = 0.5$$

$$f(a) = q = 1 - p = 0.55$$

$$f(a) = q = 1 - p = 0.5$$

### الوثيقة 17: بعض مظاهر الانتقاء الطبيعي. استخرج من الوثيقة أهم العوامل المتدخل في الانتقاء الطبيعي.



المثال 2: اختيار الشريك الجنسي يتم بناء على مجموعة من الخصائص التي ترتبط بالنمط الوراثي للفرد (استعراض زاهي مميز للريش عند ذكر الطاووس)



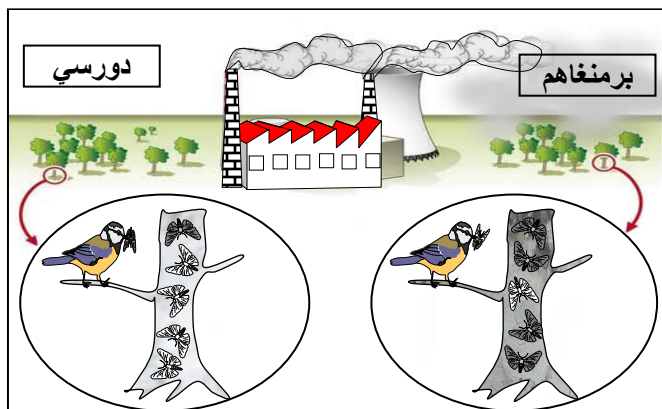
مثال 1: ليس لمختلف الكائنات المؤهلات نفسها للبقاء على قيد الحياة

### الوثيقة 18: تغير تردد أرفية السندر حسب اللون.

أرفية السندر *Biston betularia* فراشة ليلية تستريح في النهار على أغصان السندر. في إنجلترا وإلى منتصف القرن التاسع عشر، كانت الغالبية الكبرى لهذه الفراشات ذات لون فاتح. لكن بعد ذلك أصبحت الفراشات ذات اللون الداكن أكثر ترددا قرب المناطق الصناعية، بينما ظلت الفراشات ذات اللون الفاتح أكثر انتشارا في الأرياف. في سنة 1955 قام الباحث Kettlewell بايسام مجموعة من فراشات الأرفية السوداء والبيضاء وأطلقها في منطقتين مختلفتين: منطقة برمنغام *Birmingham* التي تحتوي على أشجار ذات أغصان داكنة بفعل التلوث (الميلانيزم الصناعي *Mélanisme industrielle*)، ومنطقة دورسي *Dorset* التي تحتوي على أشجار غير ملوثة. بعد ذلك عمل على اصطياها من جديد مع حساب نسب ترددها. يلخص الجدول أسفله نتائج هذه الدراسة:


(1) ماذا تلاحظ فيما يخص توزيع شكلي هذه الفراشة؟

(2) أوجد تفسيراً لتردد الفراشتين في كل من المنطقتين المدروستين إذا علمت أن هذه الفراشات تستهلك من طرف بعض الطيور.



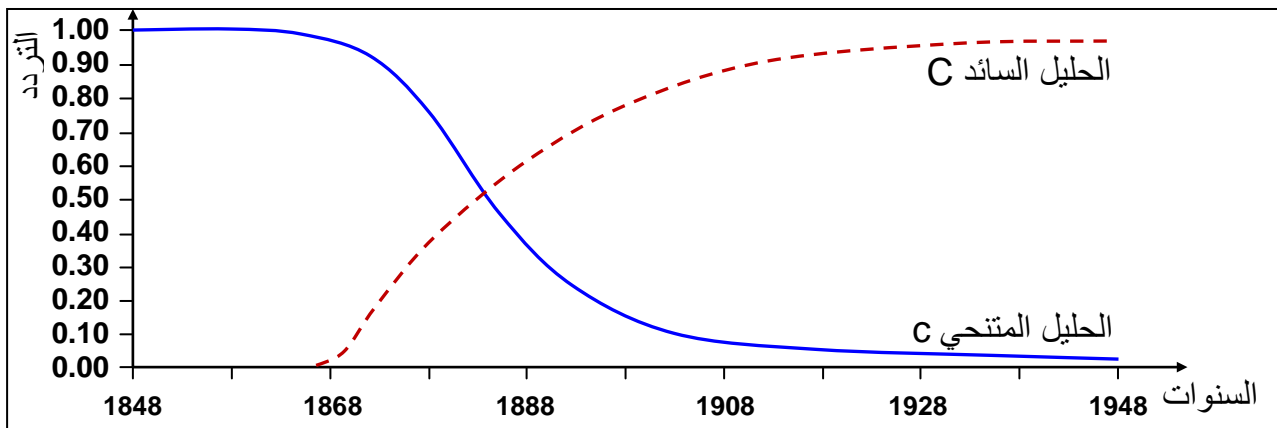
في برمنغام		في دورسي		عدد الفراشات الموسومة والمحرورة
فاتحة	داكنة	فاتحة	داكنة	
64	154	496	474	عدد الفراشات الموسومة المصطادة
16	82	62	30	نسبة الفراشات الموسومة المصطادة
25%	53.2%	12.5%	6.3%	

**الوثيقة 19: تأثير قدرة الفراشات على التخفي على ظاهرة الانتقاء الطبيعي**



**الوثيقة 20: تأثير الانتقاء على تردد الحليلات عند أرفية السنذر**

يتحكم في لون فراشة الأرفية حليلين: المظهر الخارجي الداكن مرموز بواسطة الحليل السائد C. والمظهر الخارجي الفاتح مرموز بواسطة الحليل المتنحي C. يعطي المبيان أسفله تردد حليلي أرفية السنذر في المنطقة الصناعية لمانشستر Manchester خلال 100 سنة.



حلل المبيان واستنتج تأثير الانتقاء الطبيعي على تردد الحليلات في هذه الساكنة.

**الوثيقة 21: مفهوم القيمة الانتقائية La valeur selective**

القيمة الانتقائية (Valeur sélective) تعبر عن قدرة فرد معين على نقل حليلاته إلى الجيل الموالي. ونميز بين: **★ القيمة الانتقائية المطلقة لنمط وراثي معين:** هي عدد الأفراد الذين ينجبهم في المعدل كل فرد حامل لهذا النمط الوراثي، والقادرين على العيش وعلى نقل حليلاتهم إلى الجيل الموالي. ويمكن التعبير عنها بالصيغة أسفله:

$$\frac{\text{نسبة النمط الوراثي عند الجيل } G_1}{\text{نسبة النمط الوراثي عند الجيل } G_0} = \text{القيمة الانتقائية المطلقة}$$

★ **القيمة الانتقائية النسبية:** تعطى القيمة 1 للنمط الوراثي ذو أعلى قيمة انتقائية مطلقة. أما بالنسبة للأنماط الوراثية الأخرى، فتساوي القيمة الانتقائية المطلقة للنمط الوراثي المعني مقسومة على القيمة الانتقائية المطلقة للنمط الوراثي الأكثر ارتفاعا.

في منطقة صناعية تم إحصاء عدد كل من الفراشات الفاتحة والقائمة في فترتين متباعدتين فجاءت النتائج على الشكل التالي :

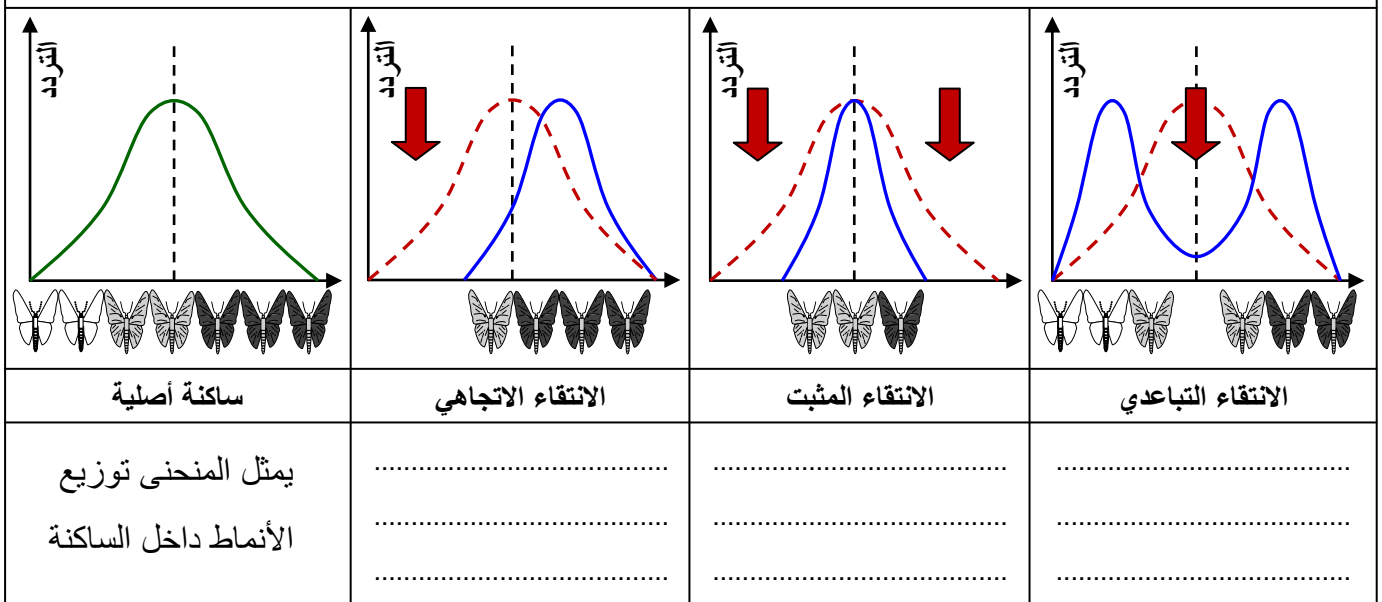
القيمة الانتقائية النسبية	القيمة الانتقائية المطلقة	نسبة الفراشات القادرة على العيش والتوالد	عدد الفراشات المحصاة في نهاية الدراسة	عدد الفراشات المحصاة في بداية الدراسة	
			16	64	الفراشات الفاتحة
			82	154	الفراشات الداكنة

باعتماذك على التعاريف المدرجة في الوثيقة أعلاه، أحسب القيم الانتقائية لكل من الفراشة الفاتحة والداكنة في هذه المنطقة الصناعية، واملأ الجدول، ثم علق على النتائج المحصل عليها.



**الوثيقة 22: أنواع الانتقاء الطبيعي.**

انطلاقاً من معطيات الوثيقة قارن بين أنواع الانتقاء الطبيعي. علماً أن المنحنى المتواصل يمثل توزيع المظاهر المختلفة داخل ساكنة، والمنحنى المتقطع توزيع الساكنة الأصلية.



**الوثيقة 23: مفهوم الانحراف الجيني.**

★ قام Steinberg بدراسة ترتبط بتردد الفصائل الدموية عند ساكنة Les Huttérites، يتعلق الأمر بتجمع عقائدي «Secte»، هاجر من سويسرا إلى روسيا ومن ثم خلال سنة 1880 إلى أمريكا الشمالية حيث كون سلسلة من المستعمرات في Montana و Docota وفي أجزاء قريبة من كندا. يمثل الشكل أ من الوثيقة النتائج التي توصل إليها Steinberg.

الشكل أ

A	O	الفصيلة الدموية
45%	تقارب 29%	عند أفراد التجمع العقائدي
- 30% 40%	تفوق 40%	عند أغلب الساكنات الأوربية والأمريكية

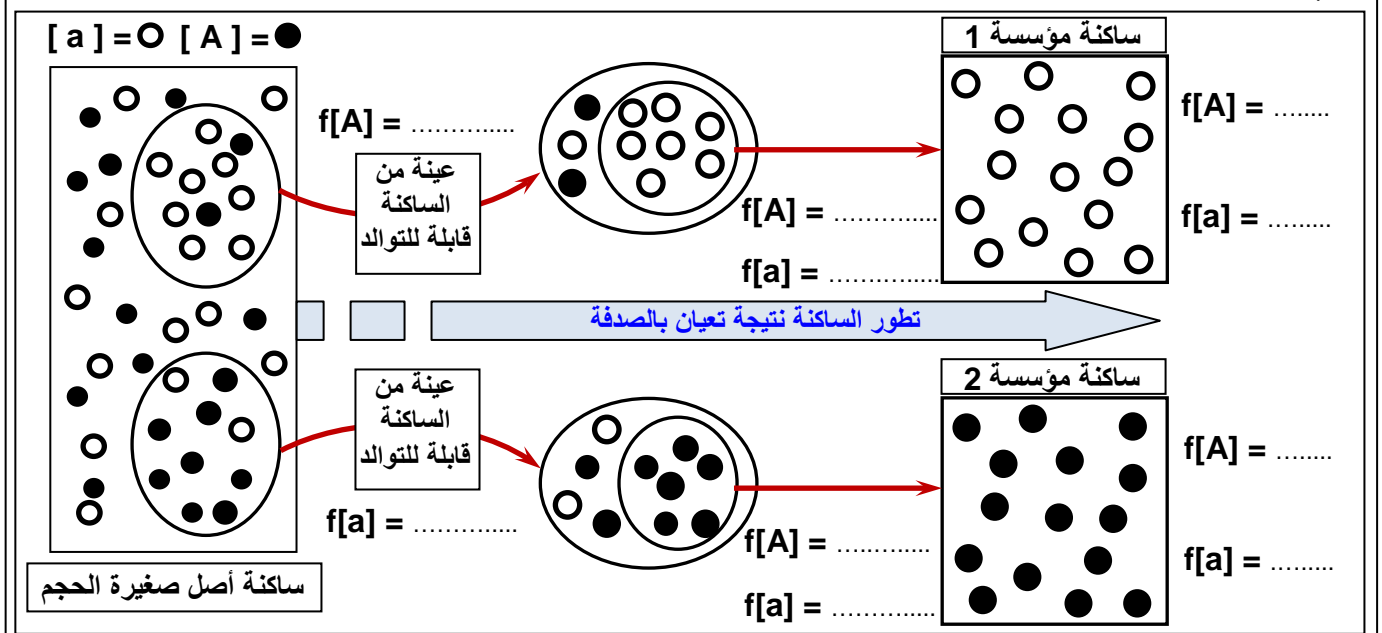
(1) قارن بين معطيات الجدول. ماذا تستنتج؟

★ فسر Steinberg البنية الوراثية لساكنة Les Huttérites بتعرضها لظاهرة تسمى الانحراف الجيني. لتعرف هذه الظاهرة نقترح عليك الرسم التخطيطي أسفله، والذي يمثل نمودجا تفسيريا لهذه الظاهرة.

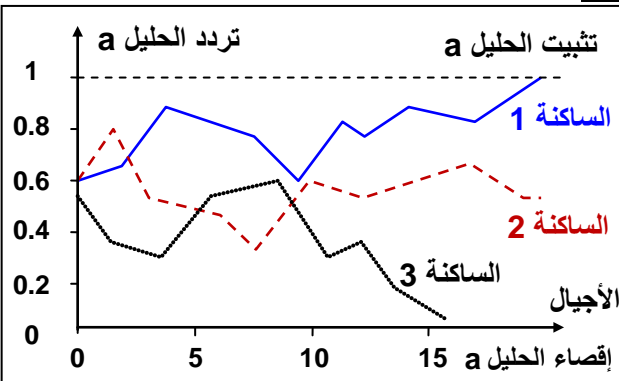
(2) أحسب تردد مختلف المظاهر الخارجية في هذه الساكنات.

(3) علق على معطيات هذه الوثيقة موضحاً فيما تتجلى ظاهرة الانحراف الجيني.

(4) على ضوء هذه المعطيات فسر أصل البنية الوراثية المسجلة عند ساكنة Les Huttérites .



### الوثيقة 24: تأثير الانحراف الجيني في المحتوى الجيني للسكان



يعطي الرسم البياني أمامه، محاكاة باستخدام نظام المعلومات، لتقلب تردد الحليلات خلال عدة أجيال، عند ثلاث ساكنات صغيرة الحجم.

- 1) ما هي الظاهرة التي يعبر عنها هذا المبيان؟
- 2) من خلال تحليل هذا المبيان، أبرز مظاهر هذه الظاهرة، وتأثيرها على البنية الوراثية للسكان.
- 3) من خلال معطيات المبيان، والمعلومات المقدمة في الوثيقة 23، أعط تعريفا لظاهرة الانحراف الجيني.

### الوثيقة 25: الهجرة الأحادية الاتجاه

★ نظرا للتمييز العنصري الذي ظل سائدا في الولايات المتحدة الأمريكية فإن كل فرد ناتج عن زواج مختلط (خلاسي Métis) يعد منتما إلى السكان السوداء. وبهذا يتم نقل الحليلات في اتجاه واحد من البيض نحو السود. لتعرف تأثير هذه الهجرة في البنية الوراثية للسكان السوداء، قام Li و Gauss سنة 1953 بدراسة تطور تردد الحليل Ro لنظام ريزوس (Rhésus) عند هذه السكان. ويلخص الجدول على الشكل 1 نتائج هذه الدراسة.

1) قارن بين معطيات الجدول ثم استنتج.

★ لتفسير أصل البنية الوراثية لسكان سود أمريكا، نقترح عليك نموذج الهجرة الأحادية الاتجاه، كما هو ممثل على الشكل 3 من هذه الوثيقة.

2) باستعمال المعلومات المقدمة في الشكل ج من الوثيقة، أحسب التدفق الهجري m وتردد الحليلين A و a عند ساكنة الجزيرة بعد الهجرة.

3) علما أن البنية الوراثية لسكانة القارة تظل مستقرة، ماذا تستنتج فيما يخص البنية الوراثية لسكانة الجزيرة؟

4) كيف تفسر إذن أصل البنية الوراثية لسكانة سود أمريكا؟

#### الشكل 3:

التدفق الهجري m: هو نسبة المهاجرين الذين يتدفقون على السكان المستقبلية في كل جيل، ويحسب بتطبيق المعادلة التالية  $m = n / (N + n)$   
 $N =$  عدد أفراد السكان المستقبلية،  $n =$  عدد المهاجرين.  
 تمكن النسبة m من حساب تردد حليل معين بعد الهجرة بتطبيق المعادلة التالية  $p_1 = (1-m)p_0 + mp_m$   
 يمثل  $p_m$ : تردد الحليل السائد في ساكنة القارة. و  $p_0$  تردد الحليل السائد عند ساكنة الجزيرة قبل الهجرة.

#### الشكل 1

تردد الحليل Ro	السكانات
0.63	عند السكان الأصلية السوداء (السكانات الإفريقية أصل العبيد)
0.446	السكان السوداء سنة 1953 بعد عشرة أجيال من معاهدة العبيد.
0.028	عند السكان البيضاء للولايات المتحدة الأمريكية ولسكانة أوروبا التي لم تتغير منذ القرن 18

#### الشكل 2

ساكنة الجزيرة (N ساكن)

تردد الحليلات في ساكنة القارة:

$$f(A) = p_m = 0.7$$

$$f(a) = q_m = 0.3$$

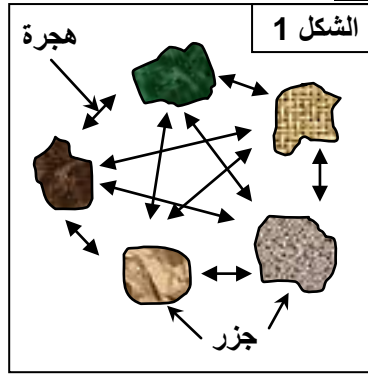
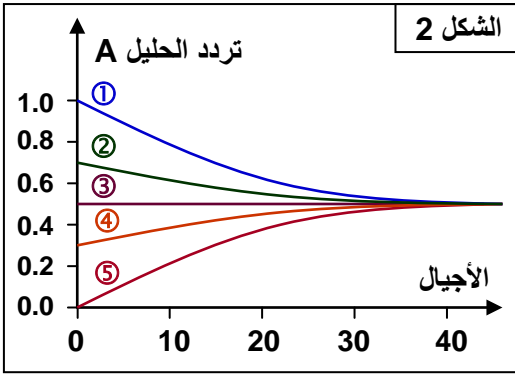
تردد الحليلات في الجيل  $G_0$  في ساكنة الجزيرة:  
 $f(A) = p_0 = 0.4$   
 $f(a) = q_0 = 0.6$

تردد الحليلات في الجيل  $G_1$  بعد الهجرة:

$$f(A) = p_1 = \dots\dots\dots$$

$$f(a) = q_1 = \dots\dots\dots$$

**الوثيقة 26: الهجرة المتعددة الاتجاهات.**



يمثل الشكل 1، نموذج تدفق هجري متعدد الاتجاهات بين خمس ساكنات تقطن خمس جزيرات أرخبيلية. ويمثل الشكل 2 تطور تردد حليل A لدى هذه الساكنات الخمس، تحت تأثير هذه الهجرة. حلل معطيات الوثيقة ثم استنتج.

**الوثيقة 27: معايير المميّزة لبعض أنواع طائر السمّنة La grive.**

السمّنة La grive طائر من جنس "Catharus" يتضمن عدة أنواع جد متشابهة مرفولوجيا لكنها تختلف فيما بينها بمجموعة من الخصائص (المعايير) المميّزة لكل نوع. ويعطي الجدول أسفله، بعض خصائص أربعة أنواع من هذا الطائر تقطن أمريكا الشمالية.



Catharus minimus	Catharus ustulatus	Catharus guttatus	Catharus fuscescens	الخصائص
غابات الصنوبر غير كاملة النمو	غابات المخروطيات	أشجار المخروطيات	أراض مشجرة ذات أدغال وافرة	مسكن الزواج
على التربة	غالبًا على الأشجار	على التربة	على التربة وعلى الأشجار	أماكن الصيد
على الأشجار	على الأشجار	فوق التربة	فوق التربة	بناء العش
موجود	منعدم	منعدم	منعدم	غناء أثناء الطيران

من خلال تحليل معطيات الوثيقة، بين الخصائص المعتمدة لتصنيف هذه الحيوانات.

**الوثيقة 29: بعض المعايير المميّزة للسمندل.**

السمندل Salamandre حيوان برماني، أنجرت عليه مجموعة من الدراسات قصد التمييز بين أنواعه. يعطي الجدول أسفله نتائج التحليل الكروماتوغرافي لبروتينين مستخلصين من ثلاثة أنواع من السمندل. مكنت هذه الدراسة من تحديد عدد وتردد الحليلات الرامزة لكل بروتين عند كل نوع. تعبر القيم بين قوسين عن تردد الحليلات.



Triton vulgaris	Triton marmoratus	Triton alpestris	البروتين	المورثة
(1) a <sub>6</sub>	(1) a <sub>2</sub>	(0.2) a <sub>3</sub> (0.8) a <sub>4</sub>	الزلال	a : عدد الحليلات 7
(1) b <sub>1</sub>	(1) b <sub>7</sub>	(0.1) b <sub>1</sub> (0.55) b <sub>3</sub> (0.35) b <sub>4</sub>	Lactose déshydrogenase	b : عدد الحليلات 7

قارن بين هذه المعطيات واستخلص المعيار الذي اعتمد لتمييز هذه الأنواع من السمندل.

**الوثيقة 28: بعض المعايير المميّزة لطائر الشرشور.**

يعطي الجدول أسفله كمية طرح CO<sub>2</sub> حسب درجة حرارة الوسط من طرف نوعين من الطيور ينتميان إلى جنس Emberiza (الصور أمامه).



درجة حرارة الوسط (°C)						كمية CO <sub>2</sub> المطروح = (mg/mg)/h
25	15	05	0	-5	11	
05	07	09	10.5	11	Emberiza hortulata	
4.5	06	07	7.5	08	Emberiza citrinella	

من خلال معطيات هذا الجدول حدد المعيار الأساسي المعتمد في تمييز نوعي طائر الشرشور.